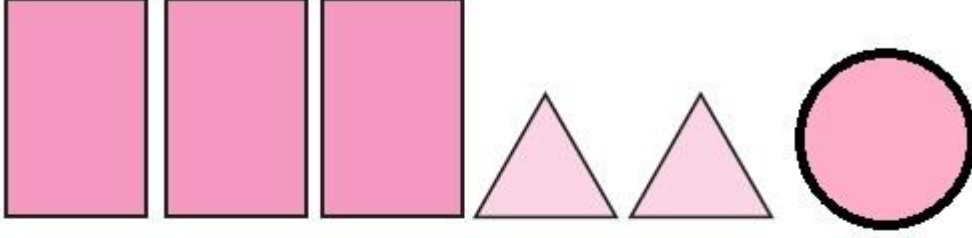
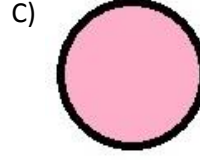
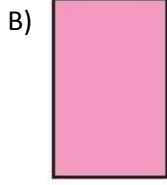
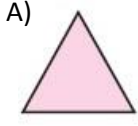


MATEMATİK SORULARI



1. Soru: Yukarıda şekillerden üçgen prizma oluşturulursa hangi şekil kullanılmaz?



2. Soru:

909

Diyar: Bu sayının yüzler ve onlar basamağının sayı değerleri eşittir ve sayı 'dokuz yüz dokuz' şeklinde okunur.

Ahmet: Yüzler basamağının basamak değeri doksan olduğu için bu sayı 'doksan dokuz' diye okunur.

İlknur: Onlar basamağının basamak değeri 'sıfır' olduğundan bu sayı 'dokuz yüz dokuz'dur.

Yukarıda verilen sayıyı hangi öğrenci yanlış okumuştur?

A) Diyar

B) Ahmet

C) İlknur

3. Soru:

427 : Dört yüz yetmiş iki

Verilen sayının okunuşunun doğru olması için aşağıdakilerden hangisini yapmalıyız?

A) Yüzler ve onlar basamaklarındaki sayıların yerini değiştirmeliyiz.

B) Yüzler ve birler basamaklarındaki sayıların yerlerini değiştirmeliyiz.

C) Onlar ve birler basamaklarındaki sayıların yerlerini değiştirmeliyiz.

4. Soru: I.Üç basamaklı en büyük sayı,

II.İki basamaklı en büyük sayı,

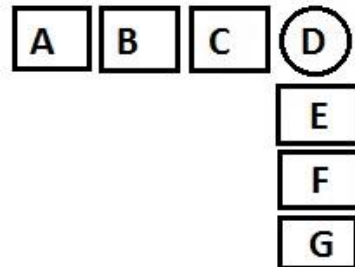
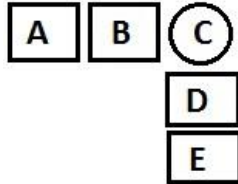
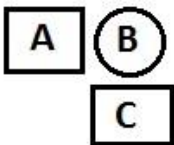
III.Üç basamaklı en küçük sayı

Yukarıdaki sayılar büyükten küçüğe doğru sıralanırsa aşağıdakilerden hangisi doğru olur?

A) I > II > III

B) I > III > II

C) III > I > II



5. Soru: Yukarıdaki örüntü genişletilirse bir sonraki adımda daire içine hangi harf yazılır?

